



OMNIBUS MATEMATYCZNY
ZESTAW II
Klasa I

Zad. 1 (3 pkt.)

Tomek idzie drogą z domu do lasu. Poruszaj się według instrukcji umieszczonej obok planu. Zaznacz krzyżykiem gdzie jest las.



2 kroki w prawo,
3 w dół, 4 w prawo,
2 w górę, 1 w lewo,
1 w górę, 3 w prawo,
5 w dół, 3 w lewo,
3 w dół, 3 w prawo,
1 w dół, 1 w prawo.



Zad. 2 (4 pkt.)

Księżniczka mieszka w wieży na 3 piętrze. Na każdym poziomie, łącznie z parterem znajdują się po 4 pokoje. Pokój księżniczki jest na najwyższym piętrze na samym końcu. Jaki numer znajduje się na drzwiach pokoju księżniczki?

Zaznacz prawidłową odpowiedź.











a) 10



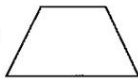

b) 12

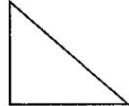

c) 14

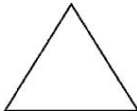


d) 16


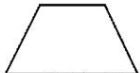
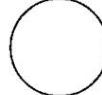
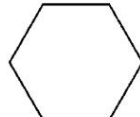
Zad. 3 (5 pkt.)



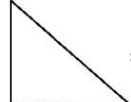
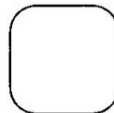
									
1	2	3	4	5	6	7	8	9	10


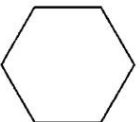

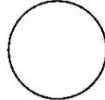
A  +  +  +  = _____

B  +  +  +  = _____

C  +  +  +  = _____

D  +  +  +  = _____

E  +  +  +  = _____

F  +  +  +  = _____

Rozwiąż działania, pamiętając, że każdej figurze odpowiada jedna cyfra.
Aby ułatwić sobie zadanie, poszczególne liczby wpisuj do środka każdej figury.

Termin nadsyłania prac: 10 marca 2018 r.