


OMNIBUS MATEMATYCZNY
ZESTAW II
dla dzieci z oddziałów zerowych

*Drogi Rodzicu,
przeczytaj swojemu dziecku polecenie i treść zadania, ale nad rozwiązaniem niech
pomyśli samodzielnie.*

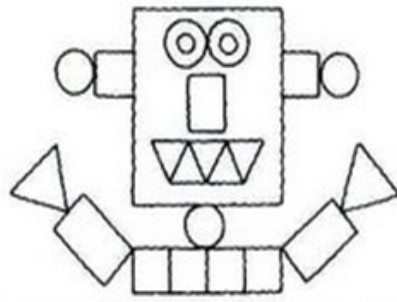
Zad. 1. (3 pkt.)

Przelicz ile jelonków chodzi po śniegu. Zaznacz właściwą liczbę.




Zad. 2. (4 pkt.)

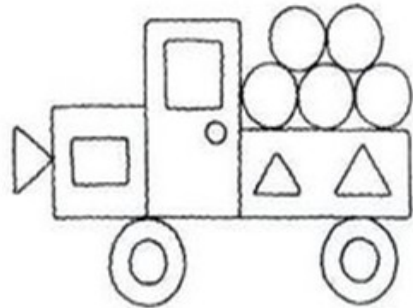
Policz ile klocków każdego rodzaju użyto do wykonania obrazka. Zapisz ich liczbę.



□	—
○	—
△	—
▭	—



□	—
○	—
△	—
▭	—




□	—
○	—
△	—
▭	—

Zad. 3. (5 pkt.)

W sadzie babci Uli wspaniale obrodziły pierwsze jabłka - papierówki. Są tak wielkie, że w koszyku mieści się tylko pięć owoców! Policz, ile koszyczków będzie potrzebowało każde dziecko do zebrania jabłek ze swojego drzewa.

Patryk




Ilość jabłek: _____ Ilość koszyków: _____

Gosia



Ilość jabłek: _____ Ilość koszyków: _____

Amelka



Ilość jabłek: _____ Ilość koszyków: _____

Maciek



Ilość jabłek: _____ Ilość koszyków: _____

Termin nadsyłania prac: 10 marca 2018 r.